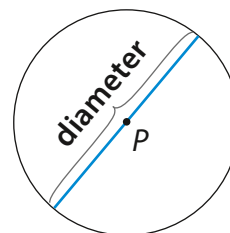


Cirkelns radie



Radien är sträckan från kanten till cirkelns mittpunkt P .

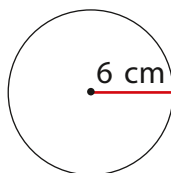
Cirkelns diameter



Diametern är sträckan från kant till kant, genom mittpunkten P .

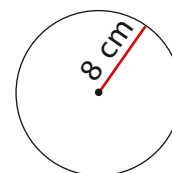
1. Räkna ut cirkelns diameter.

Radien är 6 cm.



Svar: _____

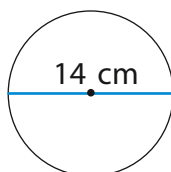
Radien är 8 cm.



Svar: _____

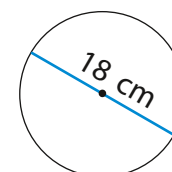
2. Räkna ut cirkelns radie.

Diametern är 14 cm.



Svar: _____

Diametern är 18 cm.



Svar: _____

Metod: kunna välja och använda en metod för att räkna med radien och diametern i en cirkel

Begrepp: förstå och kunna använda begreppen cirkel, radie, diameter, omkrets, mittpunkt, rektangel, kvadrat, sträcka