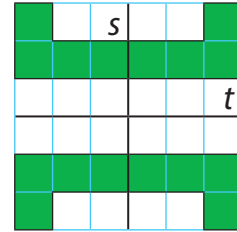
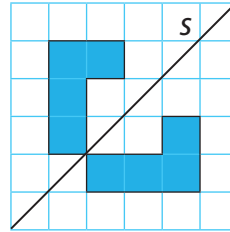
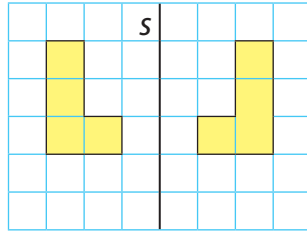
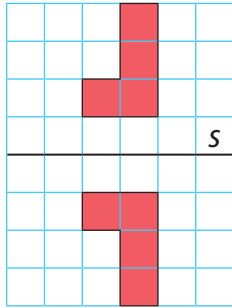


# 24 Spegelsymmetri

Linjerna  $s$  och  $t$  är symmetrilinjer. Om du viker papperet utmed symmetrilinjen, hamnar spegelbilden precis ovanpå bilden.



1. Rita spegelbilden utifrån symmetrilinjen  $t$ .

